


जमुनाजी की शोभा





नूर नीर खीर दधि सागर , घृत मधु इक ठौर ।
रस सर्वरस सागर , बिन मोमिन ना पावे और ॥

जमुनाजी

धाम तालाब कुंजवन सोहे, मानिक नेहरें वन की जोहे ।
पश्चिम चौगान बड़ोवन कहिए, पुखराजी जमुना जी लहिए ।
आठों सागर आठ जिमी ये, पच्चीस पक्ष हैं धाम धनी के ॥



जमुनाजी की शोभा

परमधाम विहार - पूर्व

सुखपाल , तख्तरवा, सेर करते

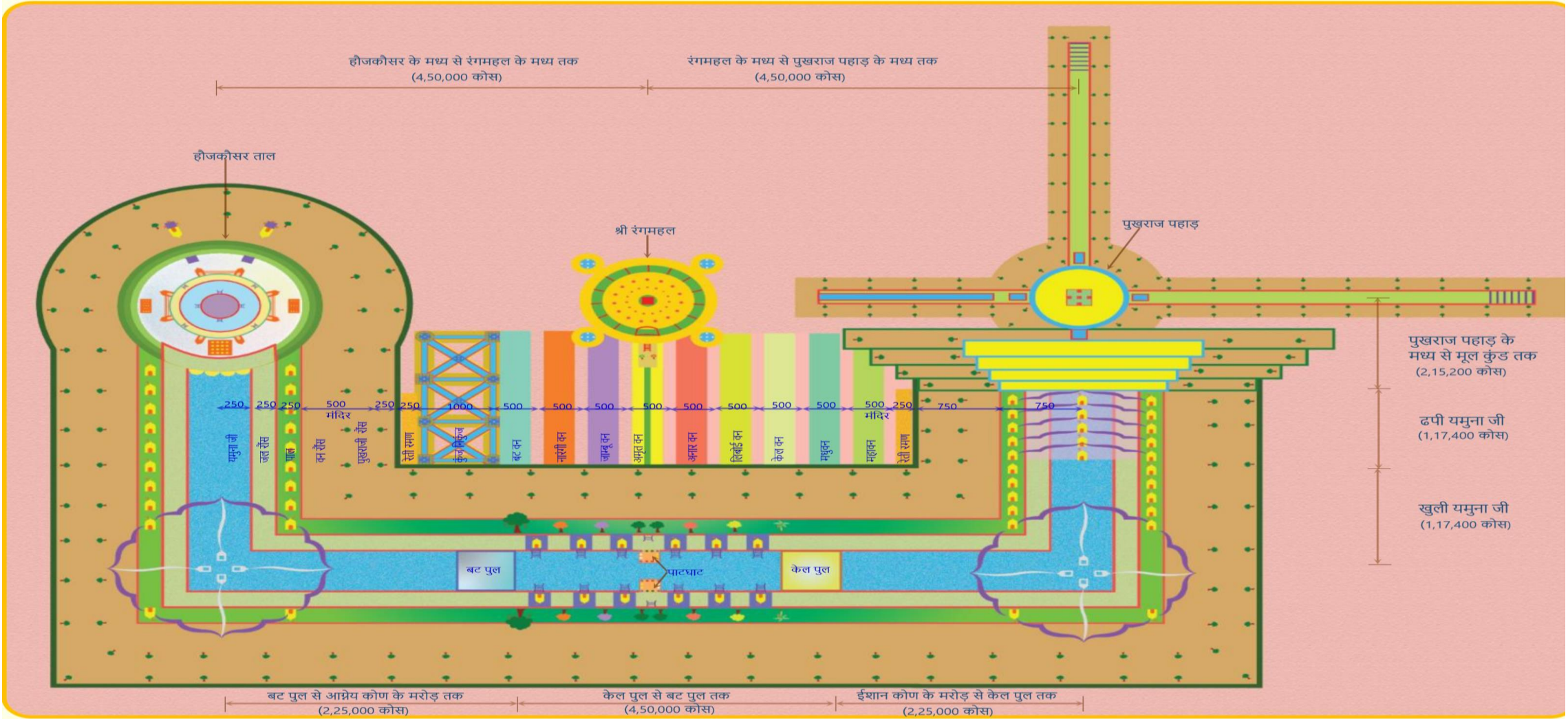
ऋष्ण पक्ष (वद)

एकम	पात धाट
बीज	बट पुल
अमास	केल पुल



Quiz





Quiz



1 बगीचों की हार

1 महलों की हार

2 भोम

जल रौंस , पाल



सीडियाँ

रौंस

मध्य से जमुनाजी

Quiz





Quiz





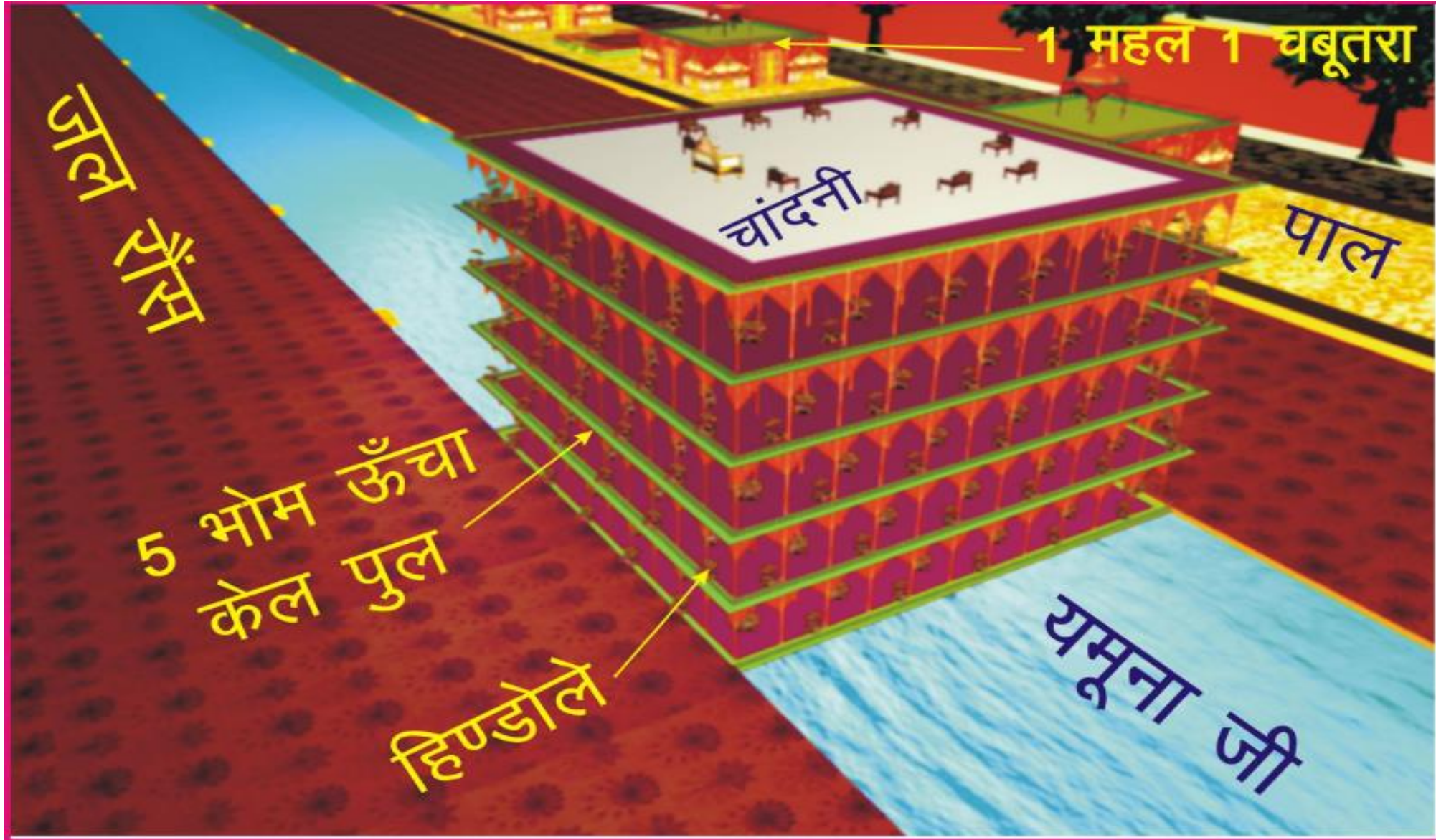
Quiz





Quiz





Quiz






Quiz





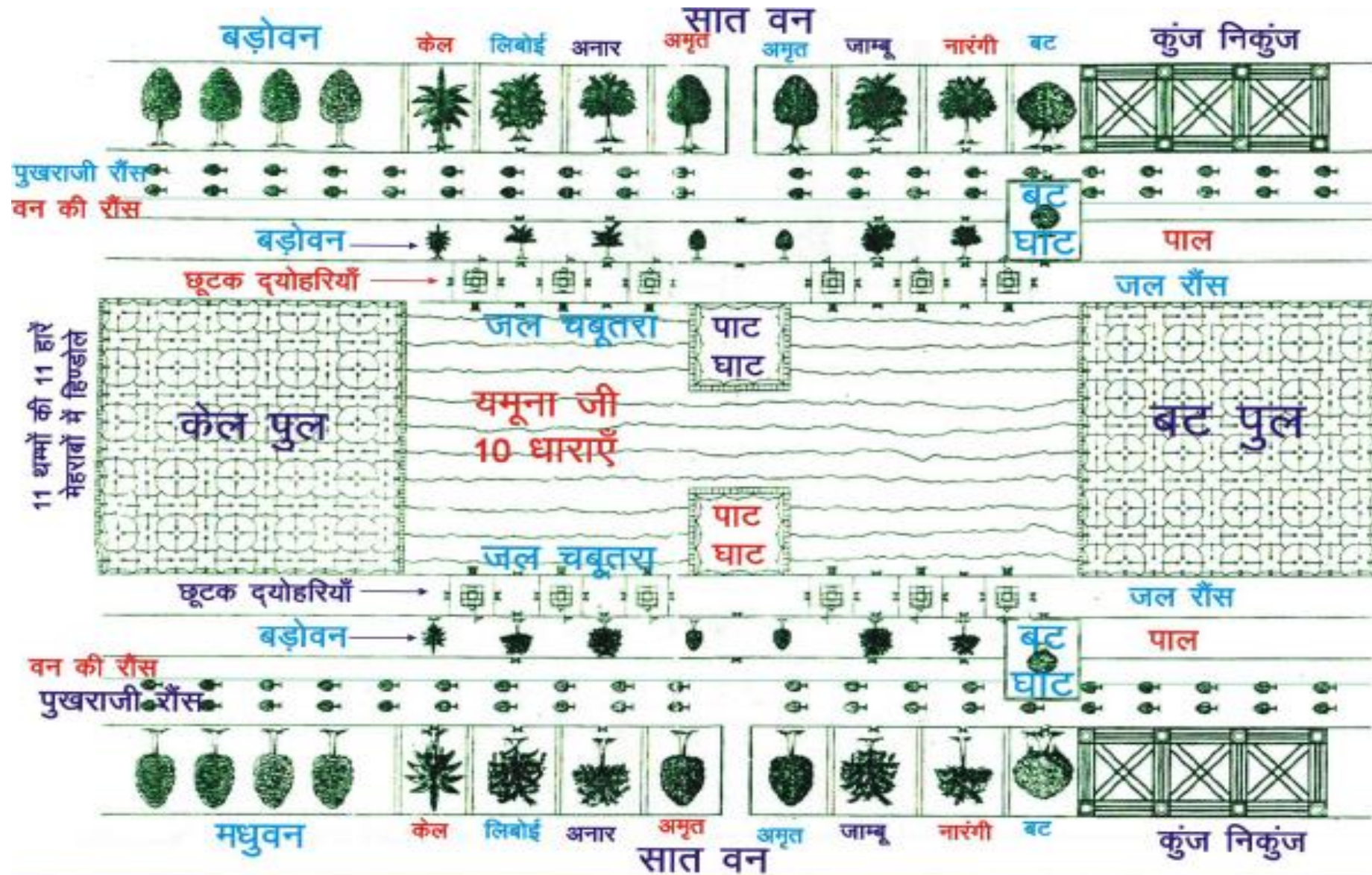
Quiz





Quiz






Quiz





Quiz





Quiz





Quiz





Quiz





जमुना तरफ ताल के , जित जल भिल्या माहें जल ।
दयोहरियाँ इन बंध पर , जल पर शोभित महल ॥

Quiz





Quiz





जो अंदर चारों घड़नाले, आगूं चबूतरा जल पर ।
तले जल जाली बारों आवत, सोभा इन घाट कहूं क्यों कर ॥६४॥

तले जाली द्वारें पाल में , जित जल रहया समाए ।
इत बैठ झरोखों देखिए , जानों पूर आवत है धाए ॥

Quiz






Quiz





OR



Quiz



1. जमुनाजी कहां से प्रगत होती है? मूल कुण्ड के चबूतरा के पूर्व की दीवाल के मध्य की मेहेराव से, मूल कुण्ड के चबूतरा से भोम पर नीचे , पुखराज रॉस की जमनी की level से
2. मूल कुण्ड की पूर्व दिशा की दीवार से यमुनाजी कितनी चौड़ाई में तथा कितनी धाराओं में प्रकट होती हैं? 400 कोस की चौड़ाई में, 4 धाराएँ
3. मूल कुण्ड से मरोड़ तक यमुनाजी पर क्या शोभा आई है? ढपी खुली जमुनाजी एवं 25 देहरीयों की शोभा
4. यमुनाजी के मरोड़ पर क्या शोभा आई है? 4 महल एण्ड 4 हिंडोले
5. मरोड़ों से केल पुल तक यमुनाजी पर क्या शोभा आई है? 5 महोल, 5 चबूतरा
6. केल पुल एवं बट पुल के बीच जल-रोष पर क्या शोभा है? 6 देहरी
7. केल पुल में कितनी भोम हैं? केल पुल में क्या लीला होती है? 5 भोम 6th चांदनी, हिंडोला , हास विलस , & जमुनजी शोभा
8. पात घाट के चारों कोनों में कौन-से नग के चार स्तंभ हैं? निलवी
9. पात घाट के नीचे जल की जमीन पर कितने स्तंभों की कितनी हारें हैं और वे किस रंग की हैं? 4 x 4 (total 16) निलवी
10. मरोड़ से होज कोसर तक यमुनाजी पर क्या शोभा आई है? 90 देहरीयों की शोभा
11. यमुनाजी होज कोसर में कितनी धाराओं से मिलती हैं? 4 धाराएँ
12. यमुनाजी की **केल पुल** और **बट पुल** में से कितनी धाराएँ निकलती हैं? 10 धाराएँ
13. यमुनाजी की **पात धाट** में से कितनी धाराएँ निकलती हैं? 3 धाराएँ

